


14.



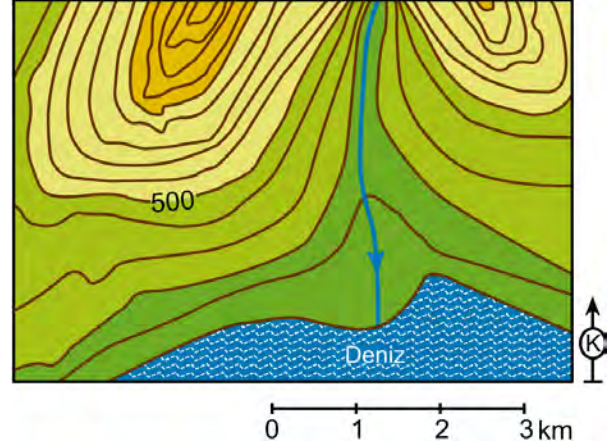
Atatürk inkılaplarını göz önünde bulundurarak Atatürk'ün nüfus cüzdanını incelendiğinde, aşağıdakilerden hangisine ulaşamaz?

- A) Türk Medeni Kanunu'nun yürürlükte olduğuna  
B) Miladi takvimin uygulamaya konulduğuna  
C) Latin harfli yeni Türk alfabesinin kabul edildiğine  
D) Soyadı Kanunu'nun yürürlüğe girdiğine  
E) Cumhuriyetin ilan edildiğine
15. Atatürk, "Bugünkü hükümetimiz, devlet teşkilatımız doğrudan doğruya milletin kendi kendiliğinden yaptığı bir devlet teşkilatıdır... Artık hükümet ile millet arasında mazideki ayrılık kalmamıştır. Hükümet millettir. Millet hükümettir." demiştir.

Atatürk'ün bu ifadesiyle aşağıdakilerden hangisinin önemini vurguladığı söylenebilir?

- A) Millî bağımsızlığın  
B) Toprak bütünlüğünün  
C) Kültür birliğinin  
D) Millî egemenliğin  
E) Kuvvetler ayrılığının

16. Aşağıda bir alana ait topoğrafya haritası verilmiştir.



Bu haritada aşağıdaki yer şekillerinden hangisi gösterilmemiştir?

- A) Boyun  
B) Vadi  
C) Delta  
D) Sırt  
E) Yamaç

17. Aynı paralel dairesi üzerindeki noktaların sıcaklıkları, buldukları yerin konumuna bağlı olarak, beklenen sıcaklık derecelerine uymayabilir. Bu tür sapmalara "anomali" denir.

Aşağıdakilerden hangisi, bu anomaliyi ortaya çıkaran etmenlerden biri değildir?

- A) Bakı  
B) Ekvatora yakınlık  
C) Yükselti  
D) Okyanus akıntıları  
E) Karasallık

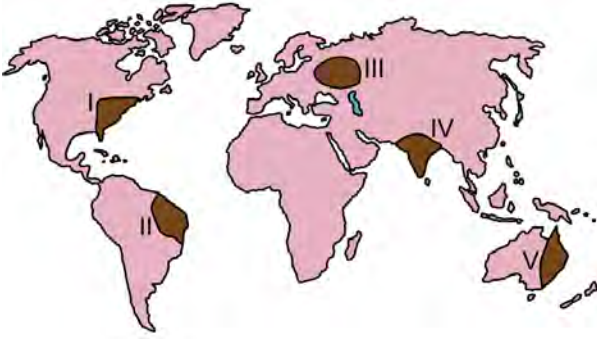
18. Aşağıda, bazı iç kuvvetler ve karşısında da yer şekilleri verilmiştir.

İç kuvvet	Yer şekli
I. Depremler	Çöküntü ovaları
II. Volkanizma	Ada oluşumları
III. Epirojenez	Kıyı taraçaları

Numaralandırılan bu iç kuvvetlerden hangileri, karşısındaki yer şeklinin oluşumunda **doğrudan** etkilidir?

- A) Yalnız I      B) Yalnız III      C) I ve II  
D) II ve III      E) I, II ve III

19.



Yukarıdaki haritada numaralandırılarak koyu renkle gösterilen alanların hangilerinde, toprak oluşumunu sağlayan kimyasal ayrışmanın daha hızlı gerçekleşmesi beklenir?

- A) I ve II      B) I ve V      C) II ve IV  
D) II ve V      E) III ve IV

20. Aşağıdaki haritada ilk medeniyetlerin kurulduğu yerler koyu renkli noktalarla gösterilmiştir.



İlk medeniyetlerin bu yerlerde kurulmasında ve gelişmesinde etkili olan öncelikli faktör aşağıdakilerden hangisidir?

- A) Hidrografik yapı      B) Yükselti  
C) Bitki örtüsü      D) Bakı  
E) İklim

21. I. Doğum oranı az ve çocuk nüfus oranı çok düşüktür.  
II. Çalışan nüfus oranı fazla ve bağımlı nüfus oranı düşüktür.  
III. Ortalama yaşam süresi kısa ve yaşlı nüfus oranı düşüktür.

Yukarıdakilerden hangileri, gelişmiş bir ülkenin nüfus özellikleri arasında yer alır?

- A) Yalnız I      B) Yalnız II      C) Yalnız III  
D) I ve II      E) II ve III

22. Bir bölgenin iklim özellikleri ile bu bölgedeki bitki örtüsü arasında yakın bir ilişki vardır. Karasal iklimin en büyük özelliği, yaz-kış ve gece-gündüz arasındaki sıcaklık farkının fazla olması, kışların çok soğuk geçmesi ve kar yağışının fazla olmasıdır.

Türkiye’de bu iklimin egemen olduğu alanlarda aşağıdaki bitkilerden hangisinin yetişmesi **beklenmez**?

- A) Karaçam      B) Meşe      C) Ardıç  
D) Sığla      E) Kavak

23. Türkiye’de birçok yerleşmenin kuruluş yeri ile adı arasında bir bağlantı bulunmaktadır. Örneğin, Uzunköprü, Vezirköprü, Taşköprü gibi akarsuların doğrudan doğruya köprüler vasıtasıyla geçilebildiği yerlerde kurulmuş yerleşmeler olduğu gibi, Yolüstü, Yolveren, Dörtöl gibi konaklama amacı ile kurulmuş yerleşmeler de bulunmaktadır.

**Bu yerleşmelerin kuruluşu ve gelişiminde aşağıdaki faktörlerden hangisinin etkisi diğerlerine göre daha fazladır?**

- A) Tarım                      B) Ulaşım                      C) Hayvancılık  
D) Ticaret                      E) Su temini
24. Günümüz dünyasında bazı ülkeler askerî, ekonomik ve siyasal anlamda iş birliği yaparak bazı örgütlerin kurulmasını sağlamıştır. Bu örgütlerin amacı, üye ülkelerin çıkarlarını korumak veya ekonomik etkinliklerini artırmaktır.

**Bu amaçlarla kurulmuş örgütler içerisinde yeni ülkelerin katılımı ile sınırları en değişken olan örgüt aşağıdakilerden hangisidir?**

- A) Avrupa Birliği  
B) Körfez İş Birliği Konseyi  
C) Karadeniz Ekonomik İş Birliği Örgütü  
D) Kuzey Amerika Serbest Ticaret Birliği  
E) Petrol İhraç Eden Ülkeler Örgütü

25.



**Yukarıdaki haritada numaralandırılarak koyu renkle gösterilen alanların hangilerinde demir yolu ağı diğerlerine göre daha seyrekdir?**

- A) I ve II                      B) I ve IV                      C) II ve III  
D) II ve IV                      E) III ve IV
26. Özellikle teknolojik gelişmenin yoğun olmadığı ve gelişmemiş olarak nitelendirilen bölgelerde doğal çevrenin insan yaşamı üzerindeki etkisi çok daha belirgindir.

**Aşağıdakilerden hangisi, bu duruma örnek gösterilemez?**

- A) Afrika'nın bazı bölgelerinde göçebe toplayıcılığın hâlâ yapılması  
B) Sahra Afrikasında insanların ulaşım için deve kullanması  
C) Moğolistan platolarında göçebe hayvancılığın yaygın olması  
D) Sibiry'a'da insanların hayvanları kürk ve derisi için avlaması  
E) Antarktika'da bazı istasyonlarda insanların yaşaması

27. I. Sel ve taşkınlar  
II. Depremler  
III. Çığlar  
IV. Volkanik patlamalar

**Yukarıdaki doğal afetlerden hangilerinin meydana gelmesinde, doğrudan veya dolaylı olarak insan etkisinden söz edilebilir?**

- A) I ve II                      B) I ve III                      C) II ve III  
D) II ve IV                      E) III ve IV

28. Aristoteles, var olanı var olan olarak ele alan felsefe disiplinini "ilk felsefe" olarak adlandırır. Bu felsefe disiplininin, varlığı bir bütün olarak ele aldığını ve varlığın ilk ilke ve nedenlerini ortaya koyduğunu söyler.

**Bu parçaya göre, Aristoteles'in ilk felsefe olarak adlandırdığı felsefe disiplini aşağıdakilerden hangisidir?**

- A) Ontoloji                      B) Epistemoloji                      C) Etik  
D) Estetik                      E) Mantık

29. Bir masal kahramanı olan "deniz kızı"nın var olduğu ya da olmadığı bilgisini doğru kabul etmem için bu bilgiye yalnız başıma benim sahip olmam pek de önemli değildir. Fakat "deniz kızı"nın denizde var olan bir varlık olduğu bilgisini benim dışımdaki kişiler de doğru kabul ediyorsa ancak o zaman bu bilginin doğruluğundan söz edebilirim.

**Bu parçada görüşlerini dile getiren kişi aşağıdakilerden hangisini bilginin doğruluk ölçütü olarak kabul etmektedir?**

- A) Apaçıklık                      B) Yarar                      C) Tutarlılık  
D) Uygunluk                      E) Tümel uzlaşım

30. Berkeley, maddenin varlığını niçin yadsımıştır? Berkeley'nin gerçek bir dil araştırmasına tabi tutarak sıkı bir yoklamadan geçirdiği şey, "maddenin kendisi" değil de "madde" sözcüğü, bunun kullanılışı ve anlamıdır. Bu tavrıyla o, düşünmeye bir yöntem değişikliği getirir. Çünkü bir anlam taşıyormuş gibi görünen, anlamdan yoksun ifadeler olabileceğini görmüştür.

**Bu parçada sözü edilen yaklaşım, aşağıdakilerden hangisiyle ilişkilendirilebilir?**

- A) Analitik felsefe  
B) Fenomenolojik yöntem  
C) Metodik şüphe  
D) Tümevarımcı yaklaşım  
E) Pragmatik yaklaşım

31. Değişmez bir insan doğası yoktur. İnsanı var eden sadece kendi eylemleridir. Yani, insan önce var olur ve ardından kendi eylemleri ile kendi özünü ve doğasını oluşturur. Bu özü oluştururken yapabileceği eylemleri kısıtlayan, kendi iradesi dışında hiçbir güç yoktur. Bu durumun en önemli sonuçlarından biri, insanın eylemlerinde tamamen özgür olduğu gerçeğidir.

**Bu parçadaki düşünceler, aşağıdaki görüşlerden hangisine yakındır?**

- A) Hobbes'un bencilliğine  
B) Sartre'in varoluşçuluğuna  
C) Epiküros'un hazcılığına  
D) Proudhon'un anarşizmine  
E) Bergson'un sezgiciliğine

# YÜKSEKÖĞRETİME GEÇİŞ SINAVI (YGS)

13 MART 2016

TÜRKÇE	SOSYAL BİLİMLER	TEMEL MATEMATİK	FEN BİLİMLERİ
1. A	1. A	1. E	1. D
2. C	2. B	2. D	2. E
3. A	3. D	3. B	3. D
4. C	4. E	4. C	4. D
5. D	5. A	5. D	5. A
6. A	6. E	6. D	6. A
7. B	7. C	7. C	7. A
8. E	8. A	8. E	8. E
9. A	9. D	9. D	9. E
10. E	10. E	10. B	10. A
11. D	11. B	11. D	11. B
12. B	12. A	12. B	12. E
13. D	13. C	13. C	13. B
14. A	14. A	14. D	14. C
15. B	15. D	15. A	15. B
16. B	16. A	16. D	16. A
17. D	17. B	17. C	17. D
18. C	18. E	18. B	18. B
19. A	19. C	19. B	19. A
20. B	20. E	20. E	20. A
21. C	21. D	21. C	21. C
22. D	22. D	22. B	22. A
23. E	23. B	23. B	23. E
24. C	24. A	24. C	24. C
25. D	25. D	25. E	25. D
26. C	26. E	26. C	26. A
27. A	27. B	27. B	27. C
28. E	28. A	28. D	28. C
29. B	29. E	29. B	29. A
30. E	30. A	30. B	30. D
31. D	31. B	31. D	31. C
32. E	32. E	32. D	32. B
33. C	33. C	33. C	33. E
34. C	34. A	34. D	34. C
35. B	35. A	35. A	35. C
36. A	36. D	36. B	36. B
37. C	37. E	37. B	37. C
38. E	38. D	38. E	38. D
39. B	39. D	39. E	39. E
40. E	40. C	40. A	40. D
	41. A		
	42. A		
	43. B		
	44. E		
	45. A		