

17. Atatürk, "Türkiye Cumhuriyeti sadece iki şeye güvenir. Biri millet kararı, diğeri en elim ve güç şartlar içinde dünyanın takdirlerine hakkıyla layık olan ordumuzun kahramanlığı; bu iki şeye güvenir." demiştir.

**Atatürk'ün, bu sözyle millî gücün**

- I. siyasi,
- II. askerî,
- III. ekonomik

**unsurlarından hangilerini vurguladığı savunulabilir?**

- A) Yalnız III      B) Yalnız I      C) II ve III  
D) I ve II      E) Yalnız II
18. I. Ankara ile İstanbul arasındaki kuş uçuşu uzaklık  
II. Tuz Gölü'nün alanı  
III. Bolu il merkezinin coğrafi koordinatları  
IV. Erciyes Dağı'nın yüksekliği

**Türkiye'nin fiziki haritasında yukarıdakilerden hangilerinin belirlenmesi için ölçek gereklidir?**

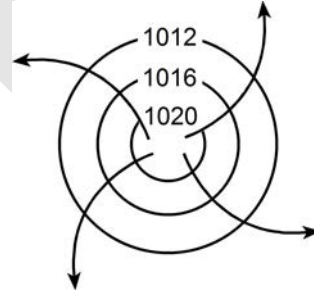
- A) I ve II      B) I ve III      C) II ve III  
D) II ve IV      E) III ve IV

19. Türkiye'de, enerji tasarrufu sağlamak amacıyla yaz ve kış saati uygulanmaktadır. Bu uygulama kapsamında yılın yaklaşık beş aylık döneminde 30° Doğu meridyeninin, diğer dönemde ise 45° Doğu meridyeninin yerel saati ulusal saat olarak kullanılmaktadır.

**Buna göre, 45° Doğu meridyeninin yerel saatinin ulusal saat olarak kullanıldığı dönemde, Türkiye' de, aşağıdakilerden hangisi yaşanmaz?**

- A) Gündüz-gece süresinin eşit olduğu gün  
B) Güneş ışınlarının dike en yakın açıyla geldiği gün  
C) En sıcak ay  
D) Öğle vakti en uzun gölge boyu  
E) En uzun gündüz

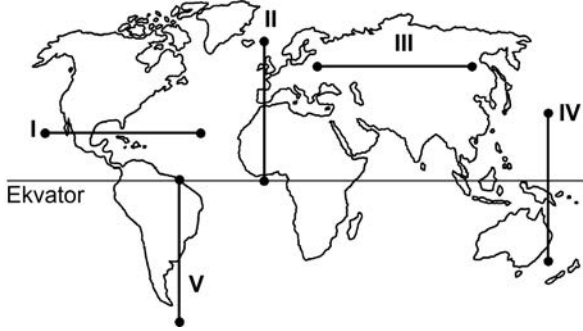
20. Kuzey Yarım Küre'deki bir yüksek basınç merkezine ait olan aşağıdaki şekilde bir hata yapılmıştır.



**Aşağıdakilerden hangisi yapılırsa bu hata giderilmiş olur?**

- A) Basınç değerini gösteren sayılar 1013 milibardan daha küçük olacak şekilde değiştirilirse  
B) Basıncı gösteren sayıların değeri merkezden çevreye doğru büyüyerek yazılırsa  
C) İzobar eğrilerinin sayısı artırılırsa  
D) Rüzgârı gösteren oklar saat ibresinin dönüşü yönünde çizilirse  
E) Rüzgârı gösteren oklar çevreden merkeze doğru çizilirse

21. Aşağıdaki haritada beş farklı doğrultu numaralarla gösterilmiştir.



Buna göre, kaç numaralı doğrultuda görülen iklim tipi çeşitliliği diğerlerinden **daha fazladır**?

- A) V    B) II    C) I    D) III    E) IV
22. Ecem ve Ada'nın aileleri yaşadıkları kente yakın bir tatil beldesine gittiler. Tatil dönüşü Ecem ve Ada bu yerde geçirdikleri ilk günü, "Sabahleyin erken hareket ettik. Yaz mevsimi olmasına karşın burada havalar yeni ısınmaya başlamıştı. Otele vardığımızda sis henüz dağılmamıştı. Bitkilerin üzerinde çiy damlacıkları vardı. Öğleye doğru hava ısındı ve sis dağıldı. Öğleden sonra gökyüzünde tek tük bulutlar görüldü. Akşama doğru kuvvetli bir rüzgâr ve peşinden siyah bulutlar belirdi. Şimşek ve gök gürültüsünden sonra yağmur damlacıklarının düşmesi gecikmedi. Otele girdiğimizde sağanak çoktan başlamıştı." sözleriyle anlattılar.

Buna göre, bu tatil beldesinin aşağıdakilerden hangisinde yer alması beklenir?

- A) Çukurova'da  
B) Çandarlı Körfezi'nde  
C) Bolu Dağları'nda  
D) Gelibolu Yarımadası'nda  
E) Datça Yarımadası'nda

23. Orografik yağışlar, denizden gelen nemli hava kütlelerinin kıyı çizgisine paralel uzanan dağ sıralarına çarparak yükselmesi sonucu meydana gelir.

Buna göre, aşağıdaki yerlerin hangisinde yıl içinde orografik yağışların **daha fazla** görülmesi beklenir?

- A) Ilgaz Dağları'nın güney yamaçlarında  
B) Doğu Karadeniz Dağları'nın güney yamaçlarında  
C) Aydın Dağları'nın kuzey yamaçlarında  
D) Küre Dağları'nın kuzey yamaçlarında  
E) Toros Dağları'nın kuzey yamaçlarında

24. Güney Amerika ve Afrika kıtalarında yapılan jeolojik araştırmalar, bu kıtalarda bulunan I. Jeolojik Zamanın Karbon ve Perm dönemlerine ait bitki ve hayvan fosillerinin birbirine benzer olduğunu ortaya çıkarmıştır.

Bu bilgi, Güney Amerika ve Afrika kıtalarıyla ilgili olarak aşağıdakilerden hangisini kanıtlar?

- A) Karbon ve Perm dönemlerinde, bu kıtalarda daha ılıman bir iklimin olduğunu  
B) Bu kıtalardaki yer şekillerinin, Karbon ve Perm dönemlerindekiyle aynı olduğunu  
C) Bu kıtaların, Karbon ve Perm dönemlerinde birleşik tek bir kıta halinde olduğunu  
D) Bu kıtalarda, Karbon ve Perm dönemlerinde yaşayan canlılarla günümüzde yaşayan canlıların aynı olduğunu  
E) Bu kıtaların, Karbon ve Perm dönemlerinde farklı yarım kürelerde bulunduğunu

25. Ege Denizi'nin güneyinde yer alan Santorini Adası'nı oluşturan volkanda, M.Ö. 1650-1600 yılları arasında meydana gelen Minoan Püskürmesi, adayı büyük bir değişikliğe uğratmıştır. Volkanik patlamada çıkan materyal kilometrelerce yüksekliğe kadar erişmiş ve patlama öncesinde tipik bir koni görünümünde olan volkan, üst kısmının çökmesi ve içinin deniz sularıyla dolması sonucu yarım ay şeklini almıştır.

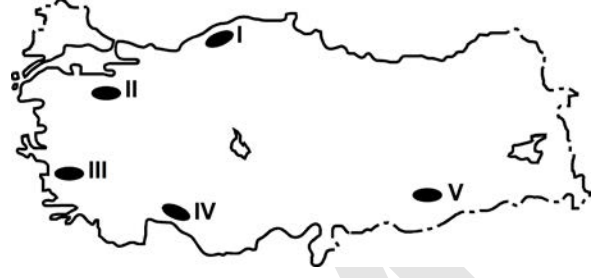
**Yalnızca bu bilgiler göz önüne alındığında, Minoan Püskürmesi'yle ilgili aşağıdakilerden hangisi kesin olarak söylenebilir?**

- A) Yaşanan en şiddetli volkanik patlama olduğu  
 B) Bir kaldera oluşturduğu  
 C) Çevrede yeni volkanlar oluşturduğu  
 D) Adanın ortalama yükseltisini artırdığı  
 E) Çok sayıda lav akıntısının oluştuğu
26. I. Anadolu aktif deprem kuşakları üzerinde yer alır.  
 II. Anadolu'da volkanik alanlarla fay hatlarının çakıştığı bölgeler vardır.  
 III. Anadolu'da çok sayıda göl vardır.  
 IV. Anadolu'daki yeryüzü şekilleri çok engebelidir.

"Türkiye, sıcak su kaynakları bakımından zengindir." diyen bir araştırmacı, yukarıdakilerden hangilerine dayanarak bu yargıya ulaşmış olabilir?

- A) I ve II      B) I ve III      C) II ve III  
 D) II ve IV      E) III ve IV

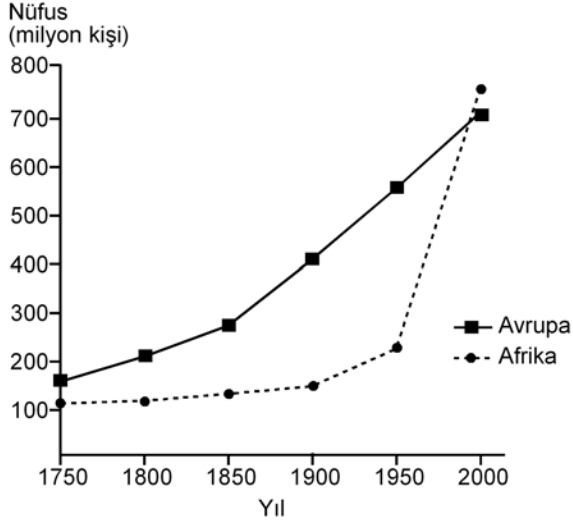
27.



**Haritada numaralarla gösterilen yerlerdeki dağlarla ilgili olarak aşağıdakilerden hangisi yanlıştır?**

- A) V. yerdeki dağ sönmüş volkan dağdır.  
 B) II. yerdeki dağın doruklarında buzullar vardır.  
 C) I. yerdeki dağların kuzey ve güney yamaçları bitki örtüsü bakımından farklıdır.  
 D) III. yerdeki dağlar kırılmayla oluşmuştur.  
 E) IV. yerdeki dağlarda karstik şekiller yaygındır.

28. Aşağıdaki grafikte, 1750-2000 yılları arasında Avrupa ve Afrika kıtalarının nüfusu gösterilmiştir.



**Yalnızca bu grafikteki bilgilere dayanarak, aşağıdaki sonuçlardan hangisine ulaşılabılır?**

- A) Avrupa'da nüfus en çok 1750-1800 yılları arasında artmıştır.
- B) 1850-1900 yılları arasında Afrika'daki doğum ve ölüm oranları birbirine eşittir.
- C) Verilen yılların tümünde, Avrupa'nın nüfusu Afrika'dan fazladır.
- D) 1750-1900 yılları arasında Afrika'dan kıta dışına yoğun göç olmuştur.
- E) Afrika'daki nüfus artış hızının en yüksek olduğu dönem 1950-2000'dir.
29. Aşağıdaki etkinliklerden hangisi, bir yerleşim yerinin nüfus artışında ve sosyo-kültürel yapısında diğerlerinden **daha az** değişime neden olur?
- A) Orman işletmesi açılması
- B) Üniversite kurulması
- C) Serbest ticaret bölgesi kurulması
- D) Demir-çelik fabrikası kurulması
- E) Turizm olanaklarının çeşitlenmesi

30. I. Siyasi bölgeler zamanla işlevini yitirebilir.
- II. Siyasi bölgeyi oluşturan ülkelerde dil, din ve ırk birliği vardır.
- III. Siyasi bölge sınırları içerisinde kalan ülkelerin yönetim biçimleri farklı olabilir.
- IV. Siyasi bölge sınırları yeni üye ülkelerin birliğe katılmasıyla genişler.
- V. Siyasi bölgelerin tümünde, birliğe üye ülkeler ortak para birimi kullanır.

**Siyasi bölgelerle ilgili olarak yukarıdaki yargılardan hangileri doğrudur?**

- A) II ve IV      B) III ve V      C) I, II ve V
- D) I ve III      E) I, III ve IV

31. Aşağıdakilerden hangisi, insanın doğaya olan etkisine örnek **gösterilemez**?

- A) Kloroflorokarbon gazlarının artmasıyla ozon tabakasının seyrelmesi
- B) Denizlerdeki kirlenmeye bağlı olarak biyoçeşitliliğin giderek azalması
- C) Her yıl farklı sayıda tropikal siklonun meydana gelmesi
- D) Kişi başına düşen tatlı su miktarının giderek azalması
- E) Yağmur ormanlarının büyük bir hızla yok olması

# YÜKSEKÖĞRETİME GEÇİŞ SINAVI (YGS)

27 MART 2011

TÜRKÇE TESTİ		SOSYAL BİLİMLER TESTİ		TEMEL MATEMATİK TESTİ		FEN BİLİMLERİ TESTİ	
1. D	26. E	1. D	26. A	1. C	26. B	1. B	26. A
2. A	27. D	2. E	27. B	2. A	27. D	2. D	27. B
3. B	28. E	3. C	28. E	3. E	28. A	3. B	28. D
4. C	29. C	4. A	29. A	4. D	29. D	4. D	29. A
5. E	30. E	5. C	30. E	5. C	30. C	5. E	30. E
6. A	31. C	6. E	31. C	6. A	31. E	6. E	31. B
7. B	32. B	7. B	32. C	7. B	32. B	7. A	32. D
8. C	33. D	8. A	33. D	8. C	33. D	8. D	33. C
9. B	34. A	9. B	34. A	9. C	34. A	9. A	34. A
10. A	35. B	10. C	35. E	10. B	35. E	10. C	35. D
11. B	36. C	11. E	36. B	11. A	36. E	11. B	36. B
12. C	37. E	12. A	37. B	12. A	37. A	12. C	37. E
13. E	38. A	13. D	38. D	13. D	38. E	13. C	38. D
14. A	39. D	14. B	39. C	14. E	39. A	14. E	39. C
15. D	40. E	15. E	40. E	15. C	40. D	15. C	40. E
16. B		16. C		16. C		16. D	
17. A		17. D		17. C		17. E	
18. E		18. A		18. B		18. B	
19. B		19. D		19. B		19. D	
20. A		20. D		20. D		20. E	
21. C		21. B		21. D		21. E	
22. D		22. C		22. B		22. B	
23. E		23. D		23. A		23. D	
24. A		24. C		24. B		24. C	
25. E		25. B		25. E		25. E	